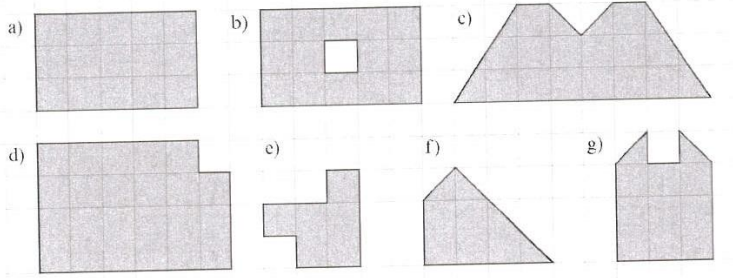


WICHTIG: Achte bitte auf die Verbesserung!

Solltest Du die Lösung nicht auf dem Blatt finden: Bitte nochmals rechnen, dann einen Mitschüler fragen; Wenn ihr es zusammen nicht rausbekommt: **schickt mir ein Mail mit dem Bild eures Lösungsversuchs** (mit Angabe der Aufgabe). Ich werde mich dann bei euch melden.

Aufgabe 1:

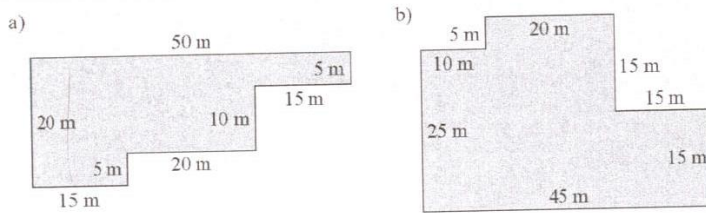
Ermittle die Größe der Flächen durch Abzählen der Kästchen.



Handwritten numbers: 14, 23, 7, 15, 10, 17, 6

Aufgabe 2:

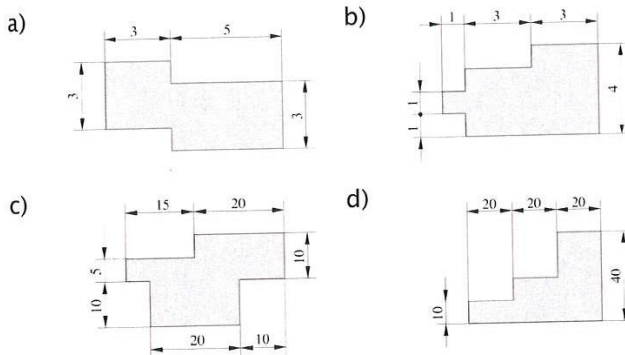
Berechne die Größe der Grundstücke.



Handwritten numbers: 675, 1075

Aufgabe 3:

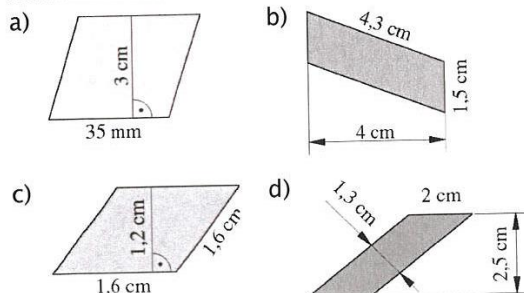
Berechne den Flächeninhalt der geometrische Figur. (Maße in m)



Handwritten numbers: 24, 1400, 475, 22

Aufgabe 4:

Flächeninhalt.



Handwritten numbers: 6, 10,5, 5, 1,92

berechne den