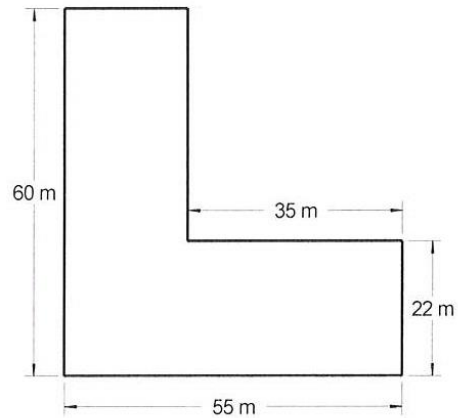


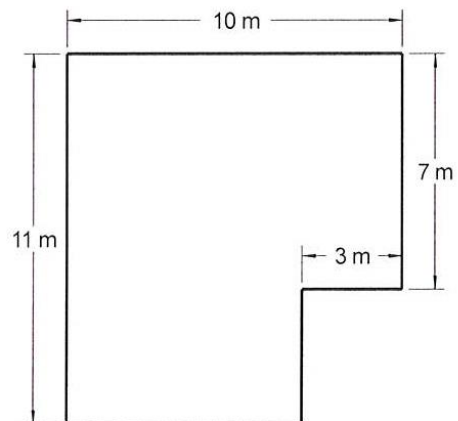
Thema: **unregelmäßige Vielecke / Parallelogramme****AB: 1** Datum 19.03.2020**WICHTIG: Achte bitte auf die Verbesserung!**

Solltest Du die Lösung nicht auf dem Blatt finden: Bitte nochmals rechnen, dann einen Mitschüler fragen;
Wenn ihr es zusammen nicht rausbekommt: **schickt mir ein Mail mit dem Bild eures Lösungsversuchs** (mit Angabe der Aufgabe). Ich werde mich dann bei euch melden.

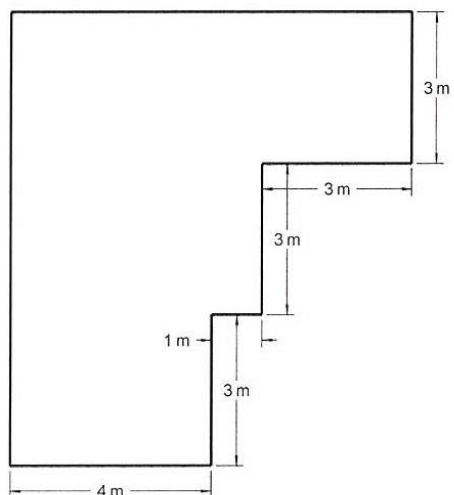
1. Berechne den Flächeninhalt der nebenstehenden Fläche.



2. Berechne den Flächeninhalt der nebenstehenden Fläche.



3. Berechne den Flächeninhalt der nebenstehenden Fläche.



98 m²
1970 m²
51 m²