





Wochenplan 3 für „nach den Oster-Ferien“

Klasse 7G

Schau dir zuerst immer erst die Videoerklärung an und lies dir die Lernhilfen im Schulbuch durch, bevor du die Aufgaben bearbeitest!!!

	Meine Aufgaben	😊 😊 😞	erledigt	kontrolliert	benötigte Zeit
 Mathematik	Thema: „Dreiecke - Beschriftung, Arten von Dreiecken, Winkelsumme“				 Trage hier ein, wie lange du für die Aufgaben gebraucht hast!
Montag			erledigt	kontrolliert	
Pflicht 🌟	Videoerklärung: Dreieck - richtig beschriften Schulbuch: Lernhilfe auf Seite 38 lesen! Seite 39 Aufgabe 5 Arbeitsheft: Seite 13 Aufgabe 1-4		<input type="checkbox"/> <input type="checkbox"/> <input type="checkbox"/> <input type="checkbox"/>	<input type="checkbox"/> <input type="checkbox"/>	
Dienstag					
Pflicht 🌟	Videoerklärung: Arten von Dreiecken Schulbuch: Lernhilfe auf Seite 41 lesen! Seite 40 Aufgabe 1 Seite 40 Aufgabe 2 Bei Aufgabe 2 hilft dir auch nochmals die Lernhilfe! Seite 41 Aufgabe 3 Seite 41 Aufgabe 4		<input type="checkbox"/> <input type="checkbox"/> <input type="checkbox"/> <input type="checkbox"/> <input type="checkbox"/> <input type="checkbox"/>	<input type="checkbox"/> <input type="checkbox"/>	
Mittwoch					
Pflicht 🌟	Videoerklärung: Winkelsumme im Dreieck Arbeitsauftrag zur Winkelsumme auf der 2. Seite im Wochenplan erledigen! Schulbuch: Lernhilfe auf Seite 42 lesen! Seite 42 Aufgabe 2 (Lösungen ins Heft schreiben!) Seite 42 Aufgabe 3 Hier den Tipp links beachten und auch nochmals die Lernhilfe auf Seite 41 beachten! Arbeitsheft: Seite 14 Aufgabe 1-4		<input type="checkbox"/> <input type="checkbox"/> <input type="checkbox"/> <input type="checkbox"/> <input type="checkbox"/> <input type="checkbox"/>	<input type="checkbox"/> <input type="checkbox"/>	
Donnerstag					
Pflicht 🌟	Arbeitsheft: Seite 15 Aufgabe 1-4		<input type="checkbox"/>	<input type="checkbox"/>	
Freitag					
	Restlichen Aufgaben vom Wochenplan erledigen!				
Zusatz ☆ 	Übungen auf der Anton App: - Arten von Dreiecken - Dreiecke unterscheiden - Winkelsumme in Dreiecken - Aussagen vervollständigen - Winkel berechnen		<input type="checkbox"/> <input type="checkbox"/> <input type="checkbox"/> <input type="checkbox"/> <input type="checkbox"/>		
	Videoerklärungen: Tust du dir mit dem Verständnis noch schwer, dann kannst du dir dieses Video (bis Minute 6:20) hierzu anschauen! Zur Wiederholung, falls nötig: Winkelarten Winkel messen				

Arbeitsauftrag zur Winkelsumme:

1 Winkelsumme im Dreieck



Zeichne ein beliebiges Dreieck.

→ Kennzeichne die im Dreieck liegenden Winkel mit verschiedenen Farben.

→ Schneide das Dreieck aus und reiße die drei Ecken ab.

→ Wie groß ist der Winkel, der sich durch das Zusammenlegen der Dreieckswinkel ergibt? Wie heißt er?