





Malaufgaben erkennen

1 Ergänze die Aufgaben zu den Bildern.



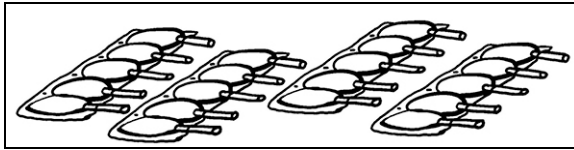
$$3 + 3 + 3 + 3 = 12$$

$$4 \cdot 3 = 12$$



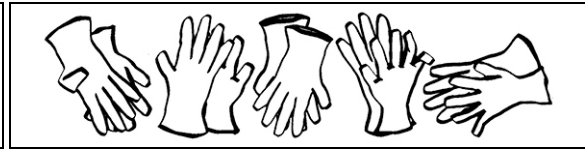
$$4 + 4 = \square$$

$$\square \cdot 4 = \square$$



$$5 + 5 + 5 + 5 = \square$$

$$\square \cdot 5 = \square$$



$$2 + 2 + 2 + 2 + 2 = \square$$

$$\square \cdot 2 = \square$$



$$5 + 5 + 5 + 5 + 5 + 5 = \square$$

$$\square \cdot 5 = \square$$



$$4 + 4 + 4 = \square$$

$$\square \cdot 4 = \square$$

2 Schreibe zu jedem Bild die Plusaufgabe und die Malaufgabe.

Rechne sie aus.

