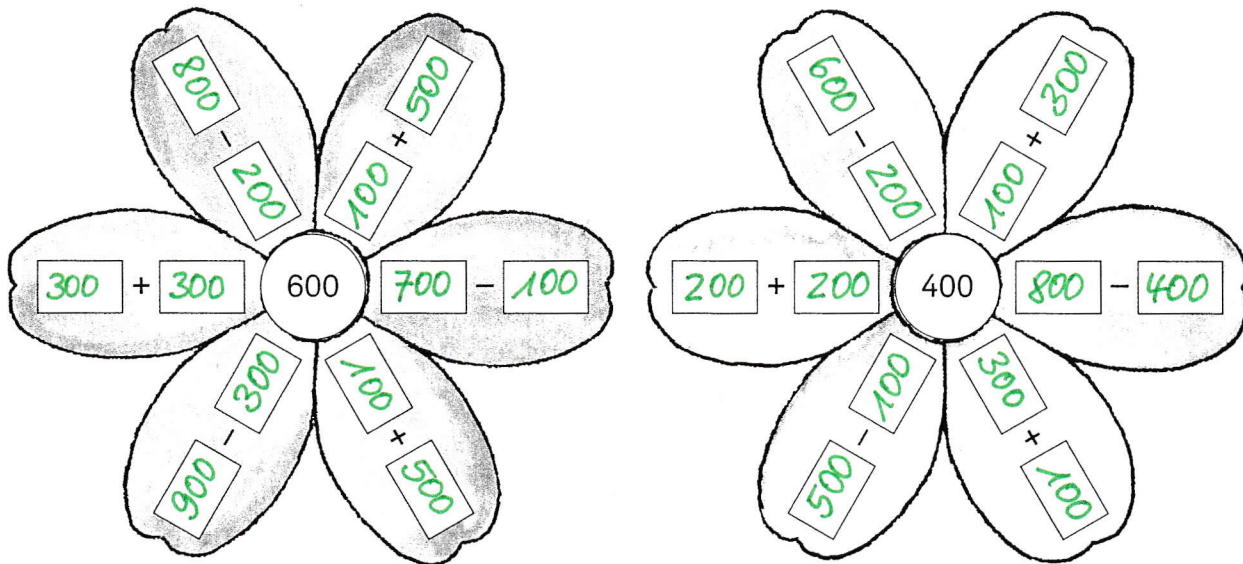
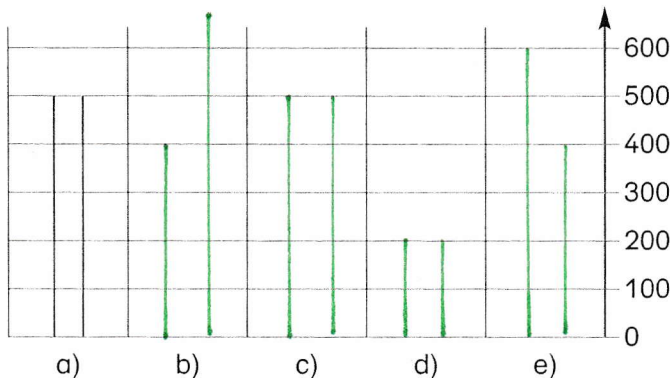


Rechenausdrücke vergleichen

1 Verschiedene Rechenausdrücke – immer das gleiche Ergebnis.



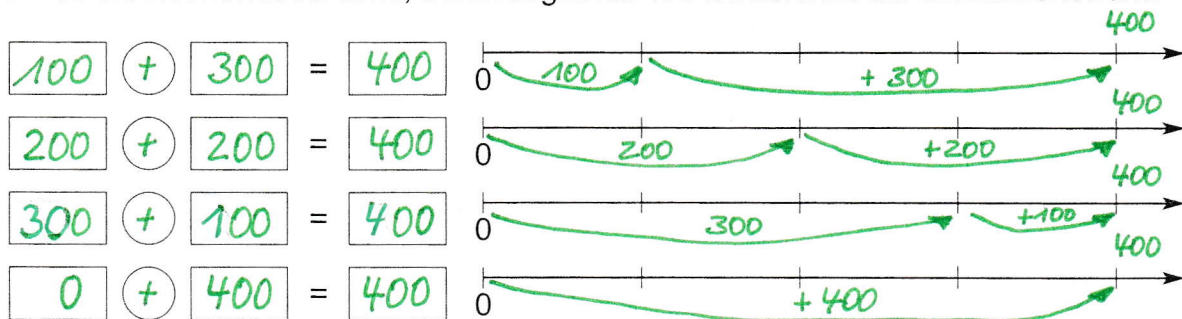
2 Zeichne und vergleiche.



- a) $200 + 300$ $\overset{=}{\circ}$ $400 + 100$
- b) $600 - 200$ $\overset{<}{\circ}$ $500 + 200$
- c) $100 + 400$ $\overset{=}{\circ}$ $600 - 100$
- d) $300 - 200$ $\overset{=}{\circ}$ $500 - 400$
- e) $200 + 400$ $\overset{>}{\circ}$ $100 + 300$

2 mal gleich, 1 mal kleiner, 1 mal größer

3 Finde die Rechenausdrücke, deren Ergebnis 400 ist. zeichne sie am Zahlenstrahl.



4 Verbinde passende Rechenausdrücke.

- | | | | | | |
|----------------|--------------|---------------|------------------|--------------|--------------|
| a) $300 - 100$ | ○ | $450 + 450$ | b) $5 \cdot 200$ | ○ | $100 + 300$ |
| $700 + 200$ | ○ | $400 : 2$ | $600 - 400$ | ○ | $70 \cdot 5$ |
| $3 \cdot 300$ | ○ | $150 \cdot 3$ | $900 : 3$ | ○ | $650 + 350$ |
| $500 - 50$ | ○ | $1000 - 100$ | $300 + 50$ | ○ | $900 - 600$ |
| $800 : 2$ | ○ | $600 - 200$ | $700 - 300$ | ○ | $800 : 4$ |

