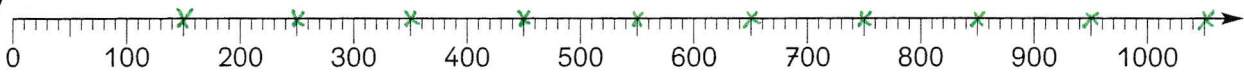


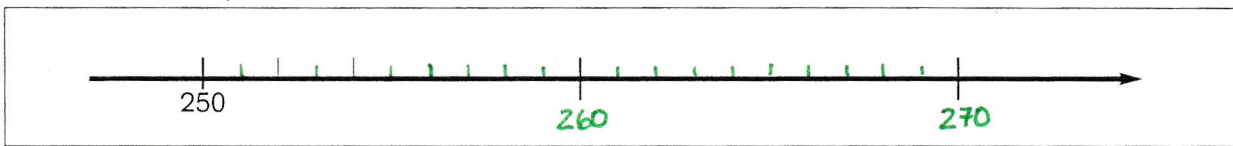
1



- a) Markiere 150, 250 ... 950.
- b) Zähle am Zahlenstrahl von 130 in Zehnerschritten bis 300.
- c) Gehe von 870 in Hunderterschritten rückwärts.
Wie heißt deine letzte Zahl?
- d) Matthias hat von 400 fünf Zwanzigerschritte rückwärts gezählt.
Welche Zahl nannte er zuletzt?
- e) Barbara hat 4 Hunderterschritte gezählt. Sie ist jetzt bei 700.
Wo hat sie begonnen?

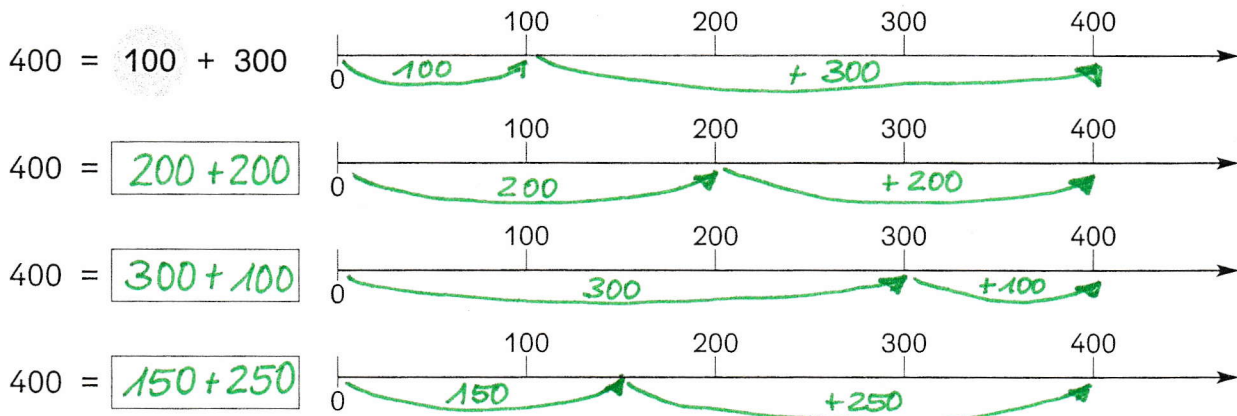
2

Jochen sollte einen Teilausschnitt des Zahlenstrahls zwischen 250 und 270 zeichnen. Bei den Hausaufgaben wurde er durch einen Anruf gestört. Zeichne fertig und beschrifte.



3

Zeichne deine Zerlegungen in die Zahlenstrahlen ein.



4

Kontrolliere am Zahlenstrahl von Aufgabe 1.

$1000 = 1 \cdot 1000$	<input style="border: 1px solid black; padding: 2px 5px;" type="text" value="U"/>	$1000 \cdot 1$	$1000 = 10 \cdot$	<input style="border: 1px solid black; padding: 2px 5px;" type="text" value="100"/>	<input style="border: 1px solid black; padding: 2px 5px;" type="text" value="U"/>	$100 \cdot 10$	
$1000 = 2 \cdot$	<input style="border: 1px solid black; padding: 2px 5px;" type="text" value="500"/>	<input style="border: 1px solid black; padding: 2px 5px;" type="text" value="U"/>	$500 \cdot 2$	$800 = 1 \cdot$	<input style="border: 1px solid black; padding: 2px 5px;" type="text" value="800"/>	<input style="border: 1px solid black; padding: 2px 5px;" type="text" value="U"/>	$800 \cdot 1$
$1000 = 4 \cdot$	<input style="border: 1px solid black; padding: 2px 5px;" type="text" value="250"/>	<input style="border: 1px solid black; padding: 2px 5px;" type="text" value="U"/>	$250 \cdot 4$	$800 = 2 \cdot$	<input style="border: 1px solid black; padding: 2px 5px;" type="text" value="400"/>	<input style="border: 1px solid black; padding: 2px 5px;" type="text" value="U"/>	$400 \cdot 2$
$1000 = 5 \cdot$	<input style="border: 1px solid black; padding: 2px 5px;" type="text" value="200"/>	<input style="border: 1px solid black; padding: 2px 5px;" type="text" value="U"/>	$200 \cdot 5$	$800 = 4 \cdot$	<input style="border: 1px solid black; padding: 2px 5px;" type="text" value="200"/>	<input style="border: 1px solid black; padding: 2px 5px;" type="text" value="U"/>	$200 \cdot 4$

