


**Aufgabe:** Schreibe diese Seite sorgfältig in dein Heft. Beachte dabei Einsterns Tipps. Diese musst du nicht abschreiben.



20.04.20

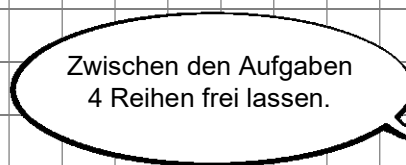
### Aufgabe 1

$4 + 2 =$

$5 + 3 =$

$2 + 4 =$

$3 + 5 =$



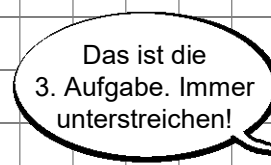
### Aufgabe 2

$7 - 3 =$

$3 - 2 =$

$7 - 4 =$

$3 - 1 =$



### Aufgabe 3

$4 + 5 =$

$1 + 4 =$

$9 - 5 =$

$5 - 4 =$